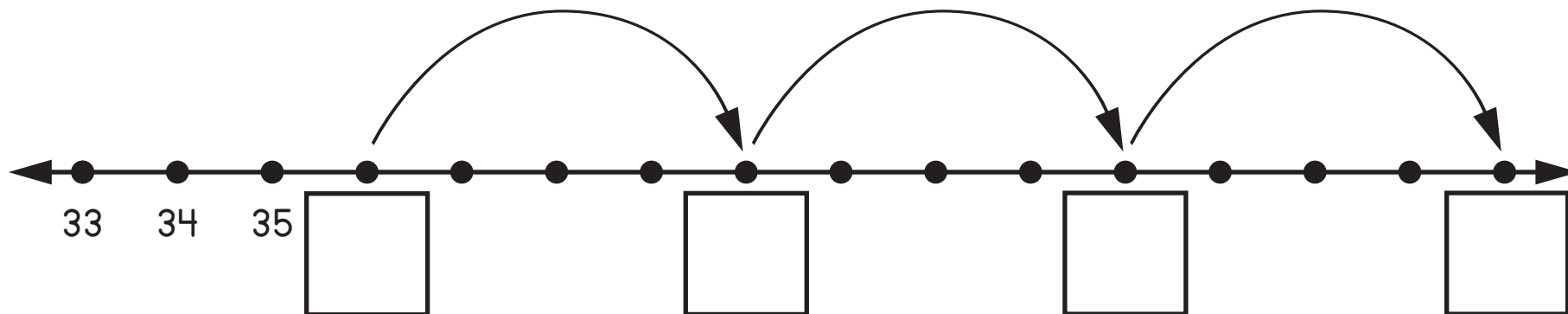
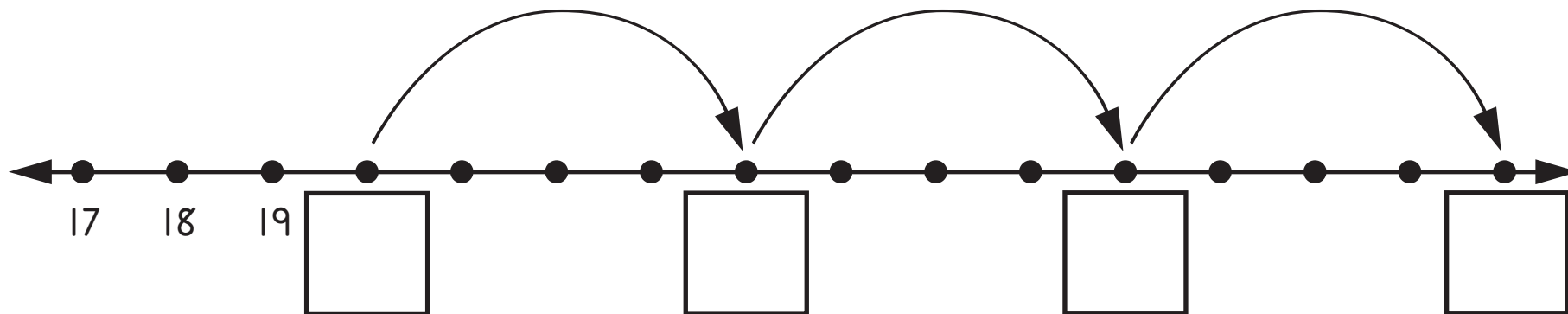
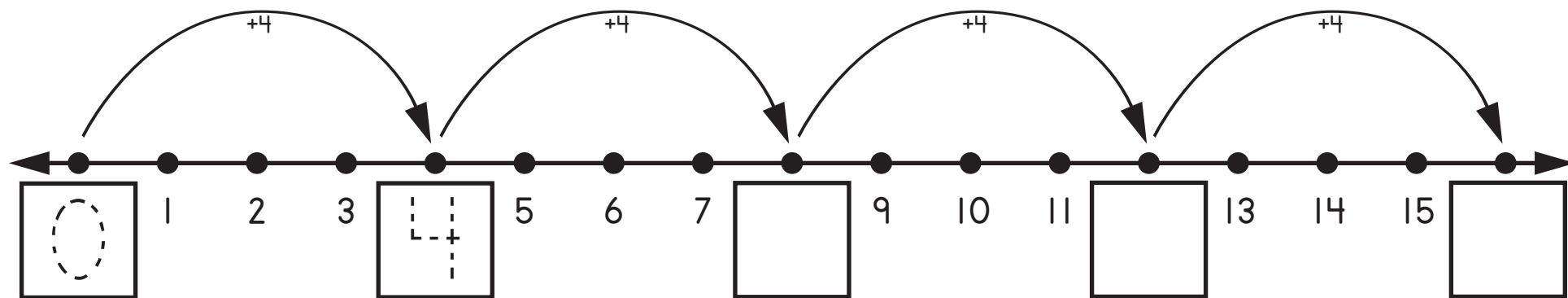


Name: \_\_\_\_\_

## Count by 4s

Count by 4s and fill in the missing numbers on the number lines.



Name: \_\_\_\_\_



Count by 4s



a.

|   |   |  |  |  |  |    |  |
|---|---|--|--|--|--|----|--|
| 4 | 8 |  |  |  |  | 28 |  |
|---|---|--|--|--|--|----|--|

b.

|    |  |  |  |  |  |    |  |  |  |    |  |
|----|--|--|--|--|--|----|--|--|--|----|--|
| 36 |  |  |  |  |  | 60 |  |  |  | 76 |  |
|----|--|--|--|--|--|----|--|--|--|----|--|

c.

|  |  |  |  |    |  |  |  |  |  |    |  |
|--|--|--|--|----|--|--|--|--|--|----|--|
|  |  |  |  | 32 |  |  |  |  |  | 56 |  |
|--|--|--|--|----|--|--|--|--|--|----|--|

d.

|  |  |  |  |  |  |  |    |  |
|--|--|--|--|--|--|--|----|--|
|  |  |  |  |  |  |  | 96 |  |
|--|--|--|--|--|--|--|----|--|

